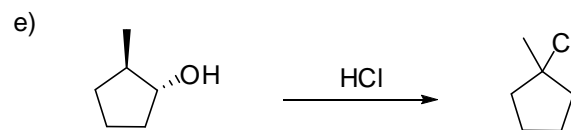
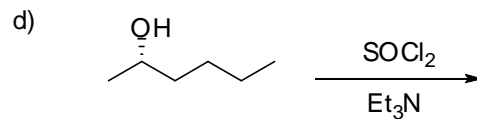
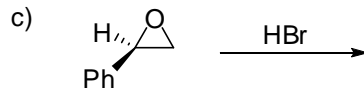
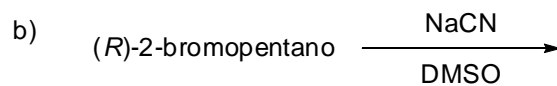
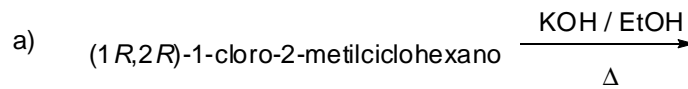
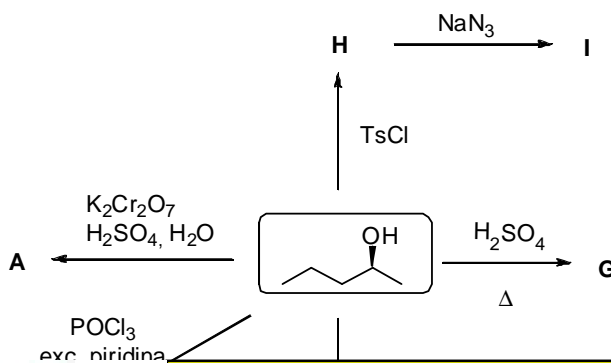


2º CONTROL DE QUIMICA ORGANICA I (28-11-2012)

1. Indique los mecanismos, la conformación reactiva o los intermedios de reacción y la estereoquímica de los productos resultantes de las siguientes reacciones: (6.0 puntos, 1.2 cada apartado)



2. Complete el esquema de reacción: (4.0 puntos, 0.5 cada compuesto)



CLASES PARTICULARES, TUTORÍAS TÉCNICAS ONLINE  
LLAMA O ENVÍA WHATSAPP: 689 45 44 70

---

ONLINE PRIVATE LESSONS FOR SCIENCE STUDENTS  
CALL OR WHATSAPP: 689 45 44 70

Cartagena99